


19,5 + 15 = 34,5



ВСЕРОССИЙСКАЯ ОЛИМПИАДА ШКОЛЬНИКОВ 2019/2020 гг.  
МУНИЦИПАЛЬНЫЙ ЭТАП  
ТЕХНОЛОГИЯ  
КУЛЬТУРА ДОМА, ДИЗАЙН И ТЕХНОЛОГИИ  
7 КЛАСС


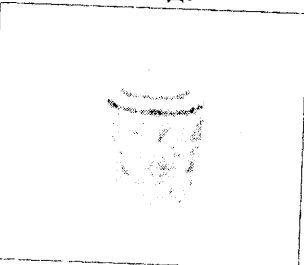



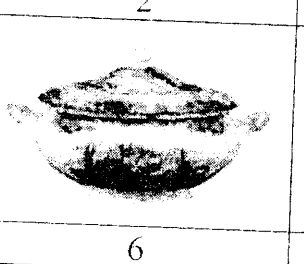
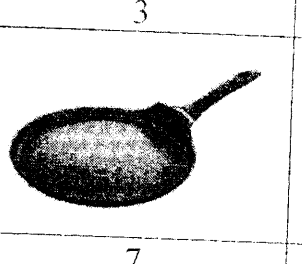
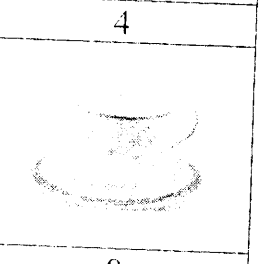
Шифр участника \_\_\_\_\_

Критерии оценки вопросов с 1 по 19 – 1 балл за правильный ответ,  
творческое задание (20 вопрос) – 6 баллов.

*Технологии производства и обработки пищевых продуктов*

*Выберите правильный ответ*

1. Внимательно посмотри на картинку. Выбери посуду, которую используют для подачи блюд.

			
1	2	3	4
			
5	6	7	8

- а) 1, 4, 5, 7
- б) 1, 4, 5, 6
- в) 1, 3, 4, 5
- г) 2, 3, 6, 7

2. Какое требование к качеству готовых бутербродов является неправильным?

- а) Готовятся непосредственно перед подачей
- б) Ломтик хлеба должен быть толщиной 2 см
- в) Хлеб должен быть полностью покрыт продуктами
- г) Срок хранения в холодильнике при  $t=+2...+6^{\circ}\text{C}$  не более 3-х суток

3. Вы собираетесь в поход с 25 июня по 7 июля 2019 года, и пришли в магазин, чтобы купить рыбные консервы. На банке выбиты следующие даты. Что Вы купите?

- а) 03.06.2018; 03.06.2019
- б) 25.06.2017; 07.08.2018
- в) 19.01.2018; 19.01.2019
- г) 29.08.2018; 29.08.2019



ВСЕРОССИЙСКАЯ ОЛИМПИАДА ШКОЛЬНИКОВ 2019/2020 гг.  
МУНИЦИПАЛЬНЫЙ ЭТАП  
ТЕХНОЛОГИЯ  
КУЛЬТУРА ДОМА, ДИЗАЙН И ТЕХНОЛОГИИ  
7 КЛАСС

Шифр участника 110702009

*Материаловедение текстильных материалов*

4. Расставьте по порядку операции первичной обработки льна:

- а) сминание,
- б) замачивание,
- в) высушивание,
- г) трепание.

Ответ: 1 - Б, 2 - В, 3 - А, 4 - Г.


*Выберите все правильные ответы*

5. Для технических нужд во многих отраслях народного хозяйства используются:

- а) брезент,
- б) парусина,
- в) парча,
- г) бархат.

*Машиноведение*

6. Современные бытовые швейные машинки облегчают работу любителей и профессионалов и просты в использовании. А что означают изображения черепахи и зайчика на корпусе?



Ответ: Скорость машинки

*Выберите все правильные ответы*

7. Чаще всего к обрыву верхней нити приводят следующие причины:

- а) толщина нити не соответствует выбранной игле;
- б) ошибки в заправке;
- в) установлена нить плохого качества, с неравномерной толщиной и узелками;
- г) игла установлена неправильно, она погнута или не соответствует типу машины;
- д) излишнее натяжение верхней нити.




ВСЕРОССИЙСКАЯ ОЛИМПИАДА ШКОЛЬНИКОВ 2019/2020 гг.  
МУНИЦИПАЛЬНЫЙ ЭТАП  
ТЕХНОЛОГИЯ  
КУЛЬТУРА ДОМА, ДИЗАЙН И ТЕХНОЛОГИИ  
7 КЛАСС

Шифр участника \_\_\_\_\_

*Конструирование и моделирование швейных изделий*

8. Постройте выкройки мешка для школьной обуви, высота мешка – 40 см, диаметр днища – 25 см. Если для построения вам понадобятся математические формулы, напишите их.



Ответ:

Формула \_\_\_\_\_

9. Перечислите швы, где может располагаться застежка в прямой юбке?

Ответ: боковой шов, средний шов.

*Технология изготовления швейных изделий*

10. Приведите правильную последовательность обработки накладного кармана:





ВСЕРОССИЙСКАЯ ОЛИМПИАДА ШКОЛЬНИКОВ 2019/2020 гг.  
МУНИЦИПАЛЬНЫЙ ЭТАП  
ТЕХНОЛОГИЯ  
КУЛЬТУРА ДОМА, ДИЗАЙН И ТЕХНОЛОГИИ  
7 КЛАСС

Шифр участника \_\_\_\_\_

- а) удалить стежки временного назначения;
- б) обметать верхний срез цельнокроеной обтачки накладного кармана;
- в) заутюжить цельнокроеную обтачку по контрольным знакам на изнаночную сторону кармана;
- г) приутюжить карман в готовом виде;
- д) приметать накладной карман к детали швейного изделия по контрольным знакам;
- е) приклеить клеевой прокладочный материал к цельнокроеной обтачке кармана;
- ж) заутюжить припуски на обработку кармана по трём сторонам;
- з) настроить карман на деталь швейного изделия.

Ответ: 1 - г, 2 - г, 3 - е, 4 - в, 5 - з, 6 - д, 7 - ж, 8 - з.

*Выберите правильный ответ*

11. При раскрое изделия в первую очередь на ткани размещают:

- а) большие детали (полочки, рукава, полотнища юбки);
- б) маленькие детали (клапана, обтачки, манжеты).

*История костюма*

*Выберите все правильные ответы*

12. Что такое дресс-код (dress code)?

- а) требования к офисной одежде сотрудников;
- б) форма одежды, требуемая при посещении определенных мероприятий, организаций, заведений;
- в) комплект одежды, обуви и аксессуаров, подобранных из вещей одного бренда;
- г) манера одеваться в определенной социальной группе.

*Выберите все правильные ответы*

13. Что отличает морской стиль от других?

- а) бело-сине-красное сочетание цветов;
- б) кружева и рюши;
- в) основной рисунок – полоска;
- г) украшения с изображением якорей, цепей, морских звезд.




ВСЕРОССИЙСКАЯ ОЛИМПИАДА ШКОЛЬНИКОВ 2019/2020 гг.  
МУНИЦИПАЛЬНЫЙ ЭТАП  
ТЕХНОЛОГИЯ  
КУЛЬТУРА ДОМА, ДИЗАЙН И ТЕХНОЛОГИИ  
7 КЛАСС

Шифр участника \_\_\_\_\_

*Технологии в сфере быта*

14. Выбери из представленных изображений главные элементы зоны приготовления пищи



15. Мебель и оборудование на кухне расставляется по принципу рабочего треугольника. Что входит в этот треугольник. Выбери правильный ответ.

- а). мойка, плита, холодильник
- б). стол, мойка, плита
- в). холодильник, стол, мойка
- г). плита, холодильник стол

*Художественная обработка материалов*

Выберите правильный ответ

16. Выбор диаметра крючка для вязания крючком зависит от

- а). желания мастера,
- б). вида изделия,
- в). типа рисунка,
- г). толщины нитей.

*Социальные технологии*

Выберите все правильные ответы

17. Какие факторы необходимо учитывать при оформлении интерьера жилого помещения.

- а) природные условия;
- б) возраст людей;
- в) назначение помещения;
- г) климатические условия;
- д) художественные предпочтения;
- е) пожелания соседей.



ВСЕРОССИЙСКАЯ ОЛИМПИАДА ШКОЛЬНИКОВ 2019/2020 гг.

МУНИЦИПАЛЬНЫЙ ЭТАП

ТЕХНОЛОГИЯ

КУЛЬТУРА ДОМА, ДИЗАЙН И ТЕХНОЛОГИИ

7 КЛАСС

Шифр участника

Агрономия

*Выберите правильный ответ*

18. Какой вид культуры не относится к масленичным:

- а). подсолнечник
- б). горчица
- в). рапс
- г).  горох

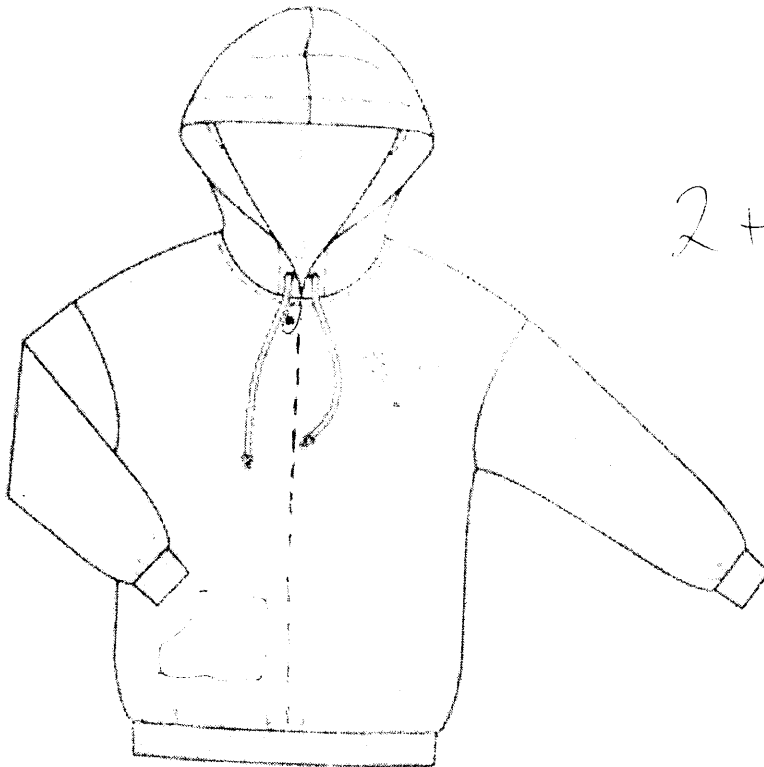
*Выберите правильный ответ*

19. Верхний слой земной коры с рыхлой структурой называется

- а). почва
- б). гумус
- в).  чернозем
- г). глинозем

20. Творческое задание:

Худи — разновидность свитера из мягкого хлопчатобумажного трикотажа или флиса с капюшоном, по российской классификации его связывают с толстовкой. Выступите в роли дизайнера и внесите свои модельные особенности и декорируйте изделие.



2+2+1+1  
/ 6



ВСЕРОССИЙСКАЯ ОЛИМПИАДА ШКОЛЬНИКОВ 2019/2020 гг.  
МУНИЦИПАЛЬНЫЙ ЭТАП  
ТЕХНОЛОГИЯ  
КУЛЬТУРА ДОМА, ДИЗАЙН И ТЕХНОЛОГИИ  
7 КЛАСС

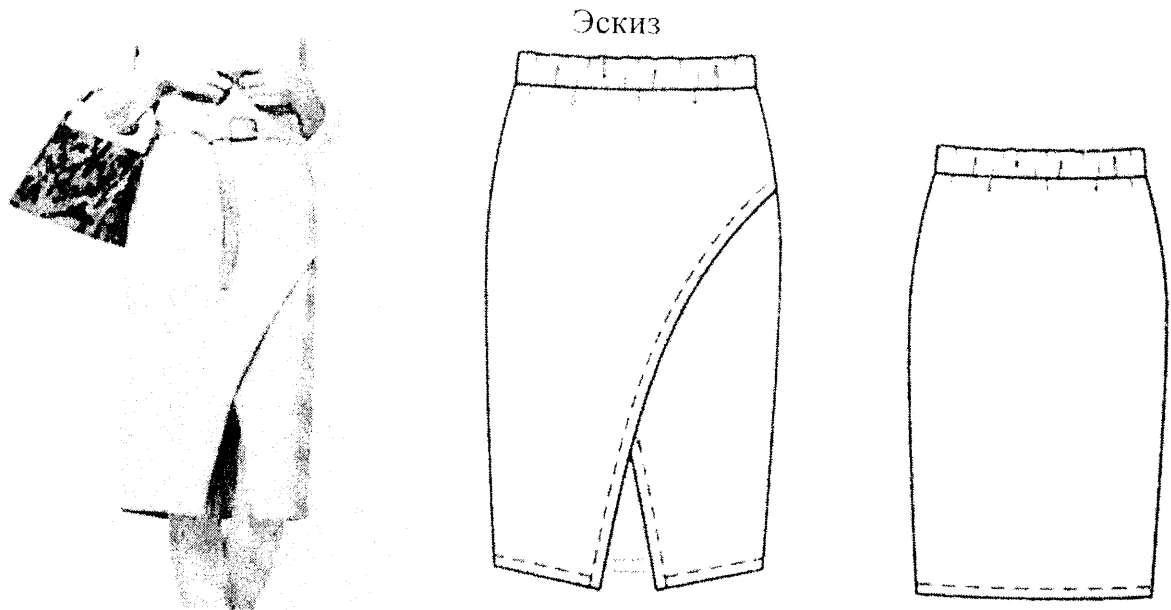
Шифр участника \_\_\_\_\_

**Практическое задание №2**

**Моделирование юбки по эскизу и подготовка выкройки к раскрою**

***Порядок выполнения работы***

1. На основу чертежа юбки нанесите линии фасона. Выполните моделирование.
2. Изготовьте из цветной бумаги лекала для раскладки на ткани.
3. Нанесите на лекала необходимые надписи для раскроя.



**Описание модели**

Юбка-карандаш с иллюзией запаха длиной по колено из трикотажного полотна.

Треугольный разрез спереди чуть ниже колена добавляет модели оригинальности. Пояс притачной на широкой эластичной резинке обеспечивает комфорт.



ВСЕРОССИЙСКАЯ ОЛИМПИАДА ШКОЛЬНИКОВ 2019/2020 гг.  
МУНИЦИПАЛЬНЫЙ ЭТАП  
ТЕХНОЛОГИЯ  
КУЛЬТУРА ДОМА, ДИЗАЙН И ТЕХНОЛОГИИ  
7 КЛАСС

Шифр участника \_\_\_\_\_

**Карта послеоперационного контроля**

№	Критерии оценки	Баллы max	Баллы факт
<b>Нанесение новых линий фасона</b>			
1	Оформлена линия «запах» переднего полотнища	3	3
2	Оформлена линия низа переднего полотнища	3	3
3	Изменены выгачки на переднем полотнище	1	—
4	Изменена выгачка на заднем полотнище	1	—
5	Построен пояс	2	—
<b>Подготовка выкроек юбки к раскрою и нанесение надписей на чертеж основы</b>			
8	Указаны названия деталей	2	2
9	Указано количество деталей	2	2
10	Указано направление долевой нити, сгиба	2	2
11	Указана величина припусков на швы	2	1
12	Чистота выполнения задания	2	2
	Итого	20	15





ВСЕРОССИЙСКАЯ ОЛИМПИАДА ШКОЛЬНИКОВ 2019/2020 гг.  
МУНИЦИПАЛЬНЫЙ ЭТАП  
ТЕХНОЛОГИЯ  
КУЛЬТУРА ДОМА, ДИЗАЙН И ТЕХНОЛОГИИ  
7 КЛАСС

Шифр участника \_\_\_\_\_

**Результаты моделирования**

