



ВСЕРОССИЙСКАЯ ОЛИМПИАДА ШКОЛЬНИКОВ 2020-2021 гг.
МУНИЦИПАЛЬНЫЙ ЭТАП
ОСНОВЫ БЕЗОПАСНОСТИ ЖИЗНЕДЕЯТЕЛЬНОСТИ
7-8 КЛАСС

Впишите свой код/шифр			

Объём 8-16

Уважаемый участник Олимпиады!

При выполнении задания Вам предстоит выполнить определенную работу, которую лучше организовать следующим образом:

- не спеша, внимательно прочитайте задание;
- определите, какой ответ наиболее верный и полный;
- запишите Ваш ответ;
- продолжайте, таким образом, работу до завершения выполнения заданий;
- после выполнения всех предложенных заданий еще раз удостоверьтесь в правильности выбранных вами ответов;
- если потребуется корректировка выбранного Вами варианта ответа, то неправильный вариант ответа зачеркните, а новый ответ впишите рядом;
- максимальное количество баллов – **200 баллов**;
- на выполнение заданий отводится **90 минут**.

Задание считается выполненным, если Вы вовремя сдаете его членам жюри.

Желаем вам успеха!

Максимальное количество баллов – 200 баллов; фактическое – 185 баллов

Подпись председателя жюри: Аед

ЗАДАНИЕ 1. Установите соответствие между оболочками земли и природными явлениями. Результат внесите в таблицу, вписав туда соответствующие буквы и слова.

Природное явление	Оболочка
1. Эпидемия	А) Литосфера
2. <u>Смерь</u>	Б) Биосфера
3. Цунами	В) Атмосфера
4. Землетрясение	Г) <u>Гидросфера</u>

Ответ:

1. Эпидемия	2. <u>Смерь</u>	3. Цунами	4. Землетрясение
Б) Биосфера	В) Атмосфера	Г) Гидросфера	А) Литосфера

Оценочные баллы: максимальный – 28 баллов, фактический – 28 баллов

Подписи членов жюри:



ВСЕРОССИЙСКАЯ ОЛИМПИАДА ШКОЛЬНИКОВ 2020-2021 гг.
МУНИЦИПАЛЬНЫЙ ЭТАП
ОСНОВЫ БЕЗОПАСНОСТИ ЖИЗНЕДЕЯТЕЛЬНОСТИ
7-8 КЛАСС

ЗАДАНИЕ 2. Установите последовательность действий алгоритма оказания первой помощи. Результат внесите в таблицу.

Действие	Порядковый номер
Вызвать специалистов: 112 — с мобильного телефона, с городского — 03 (скорая) или 01 (спасатели).	1
Обеспечить пострадавшему физический и психологический комфорт, дождаться прибытия специалистов.	6
Проверить наличие у пострадавшего признаков жизни (пульс, дыхание, реакция зрачков на свет) и сознания.	4
Обеспечить безопасность пострадавшему и окружающим.	3
Оказать неотложную первую помощь.	5
Убедиться, что при оказании первой помощи вам ничего не угрожает и вы не подвергаете себя опасности.	2

Оценочные баллы: максимальный – 18 баллов; фактический – 0 баллов

Подписи членов жюри: _____

ЗАДАНИЕ 3. Вставьте пропущенные слова

- Потер 3 – неконтролируемое горение, причиняющее материальный ущерб, вред жизни и здоровью граждан, интересам общества и государства.
- Вещества, способные гореть под воздействием источника зажигания, но неспособные самостоятельно гореть после его удаления называются – ~~горючие вещества~~ самозажигающиеся
- Эвакуация 3 – организованный процесс удаления людей из зоны, где имеется возможность воздействия на них опасных факторов пожара.
- Распространение пожара, где перемещение пламени происходит по поверхности горючих веществ в том или ином направлении и в той или иной плоскости, называется – горизонтальным.
- Огнеупорная обработка – снижение пожарной опасности материалов и конструкций путем специальной обработки или нанесения специального покрытия.
- Разветвленная сеть противопожарных трубопроводов, в которой вода находится все время под давлением, предназначенной для того, чтобы сеть моментально среагировала при появлении первых очагов пожара, называется – противопожарная система



ВСЕРОССИЙСКАЯ ОЛИМПИАДА ШКОЛЬНИКОВ 2020-2021 гг.
МУНИЦИПАЛЬНЫЙ ЭТАП
ОСНОВЫ БЕЗОПАСНОСТИ ЖИЗНЕДЕЯТЕЛЬНОСТИ
7-8 КЛАСС





7. Шланг – изделие, которое представляет собой гибкий шланг, основным предназначением которого является транспортировка огнетушащего вещества к источнику возгорания.

8. Вещество, обладающее физико-химическими свойствами, позволяющими создать условия для прекращения горения, называется – огнетушащим.

9. Пожар, горение которого протекает в пустотах строительных конструкций, вентиляционных шахтах и каналах, внутри торфяной залежи, называется – внутренним.

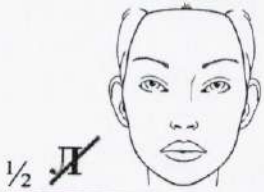



Оценочные баллы: максимальный – 27 баллов; фактический – 9 баллов
Подписи членов жюри: _____

ЗАДАНИЕ 4. Вашему вниманию представлены ребусы. Решите их. В них загаданы знаки дорожного движения. Выберите знак, который запрещает движение автомобилям, напишите его название.

Ребус		Порядковый номер
 ОВОЕ Круговое	А=И 2 дви	 , левше 1 круговое движение
 ,, пси	Й=Я лай	Т=А зонна 2 пешая зона
 теле ,,,,	 фонтан ,,,	3 телефонтан







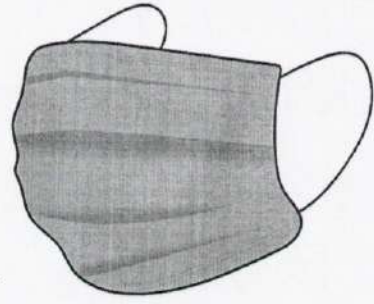

ВСЕРОССИЙСКАЯ ОЛИМПИАДА ШКОЛЬНИКОВ 2020-2021 гг.
МУНИЦИПАЛЬНЫЙ ЭТАП
ОСНОВЫ БЕЗОПАСНОСТИ ЖИЗНЕДЕЯТЕЛЬНОСТИ
7-8 КЛАСС

О=ИЯ 		колпучья 4 колпучья
КА=Е  пеше	З ОГ=НАЯ  мыльная	 дорожка 5 петляющая дорожка

Ответ: 2. Мыльная зона

Оценочные баллы: максимальный – 12 баллов; фактический – 0 баллов
Подписи членов жюри:

ЗАДАНИЕ 5. В таблице представлены средства защиты органов дыхания, определите номер лишнего и напишите почему.

1. 	2. 	3. 
4. 	5. 	6. 

Ответ: Лишний – 4. Это изоляционный противогаз. Он полностью изолирует дыхательные пути человека.



ВСЕРОССИЙСКАЯ ОЛИМПИАДА ШКОЛЬНИКОВ 2020-2021 гг.
МУНИЦИПАЛЬНЫЙ ЭТАП
ОСНОВЫ БЕЗОПАСНОСТИ ЖИЗНЕДЕЯТЕЛЬНОСТИ
7-8 КЛАСС

ЗАДАНИЕ 7. Тестовые задания

В вопросах с 1 по 20 включительно, выберите только один правильный ответ. В вопросах с 21 по 25 необходимо выбрать несколько правильных ответов. В бланке заданий обведите кружком букву выбранного варианта ответа, если в дальнейшем потребуется корректировка выбранного варианта ответа, то неправильный вариант ответа зачеркивается, а новый выбранный ответ обводится кружком.

№	Тестовые задания	Кол-во набранных баллов
Определите один правильный ответ		
1	Гидрометеорологический прогноз до 10-12 суток называется: а) Долгосрочным <input checked="" type="radio"/> б) Среднесрочным в) Краткосрочным г) Сверхсрочным	0
2	Каких групп дорожных знаков не существует? а) Знаки приоритета <input checked="" type="radio"/> б) Машинные знаки в) Знаки особых предписаний г) Информационные знаки	3
3	Применение преступными элементами или группами неограниченного насилия против населения, государственных деятелей или органов власти в целях их устрашения или для достижения своих антизаконных целей и интересов, называется: а) Экстремизм б) Преступность в) Диверсия <input checked="" type="radio"/> г) Терроризм	3
4	По классификации лесных пожаров, средним называют пожар площадью: а) 1 – 2 га б) 3 – 10 га в) 11 – 20 га <input checked="" type="radio"/> г) 21 – 200 га	3
5	Селевые потоки, образующиеся при извержении вулканов, называются: а) Лахары	0



ВСЕРОССИЙСКАЯ ОЛИМПИАДА ШКОЛЬНИКОВ 2020-2021 гг.
МУНИЦИПАЛЬНЫЙ ЭТАП
ОСНОВЫ БЕЗОПАСНОСТИ ЖИЗНЕДЕЯТЕЛЬНОСТИ
7-8 КЛАСС

№	Тестовые задания	Кол-во набранных баллов
	б) Парабелли в) Чудь <input checked="" type="radio"/> г) Вельзевуллы	
6	Сколько химически опасных объектов Российской Федерации относится к объектам I степени опасности? а) 7% <input checked="" type="radio"/> б) 8% в) 12% г) 73%	0
7	Какой источник излучения обладает наибольшей эффективной эквивалентной дозой облучения? а) Рентгенография зубов б) Флюорография в) Полёт в течение часа на самолёте <input checked="" type="radio"/> г) Облучение за год из-за радиоактивных выбросов АЭС в районе расположения станции	0
8	Кровотечение, при котором кровь не выделяется наружу, а вследствие повреждения внутренних органов или при некоторых их патологиях истекает во внутренние полости организма (брюшную, плевральную), называется: а) Кишечным б) Паренхиматозным в) Креогинальным <input checked="" type="radio"/> г) Палеоссионным	0
9	В каких растениях больше всего содержится витамина Е? а) Еловая хвоя <input checked="" type="radio"/> б) Фундук в) Редис г) Листья папоротника	1
10	Бело-красно-белая табличка на дереве в лесу обозначает: а) Границу Белоруссии <input checked="" type="radio"/> б) Лесную тропу в) Опасность г) Схрон продуктов питания для заблудившихся людей	1



ВСЕРОССИЙСКАЯ ОЛИМПИАДА ШКОЛЬНИКОВ 2020-2021 гг.
МУНИЦИПАЛЬНЫЙ ЭТАП
ОСНОВЫ БЕЗОПАСНОСТИ ЖИЗНЕДЕЯТЕЛЬНОСТИ
7-8 КЛАСС

№	Тестовые задания	Кол-во набранных баллов
11	В странах с левосторонним движением, разрешающим движение сигналом светофора является: а) Красный б) Жёлтый в) Зелёный г) Белый	3
12	Угрожающее жизни состояние, для которого характерны полная утрата сознания, нарушение кровообращения, дыхания, обмена веществ, отсутствие рефлексов, называется: а) Кома б) Обморок в) Эпилепсия г) Летаргический сон	3
13	Сколько можно выделить стадий развития пожара в здании? а) 1 б) 2 в) 3 г) 4	3
14	Какое стихийное бедствие в России является наиболее распространённым? а) Землетрясение б) Наводнение в) Ураган г) Обвал	3
15	Моча красного или бурого цвета является признаком отравления: а) Мышьяковистым водородом б) Угарным газом в) Синильной кислотой г) Метаном	—
16	Стороны горизонта поможет определить созвездие: а) Ориона б) Лиры в) Большой медведицы г) Южного креста	3



ВСЕРОССИЙСКАЯ ОЛИМПИАДА ШКОЛЬНИКОВ 2020-2021 гг.
МУНИЦИПАЛЬНЫЙ ЭТАП
ОСНОВЫ БЕЗОПАСНОСТИ ЖИЗНЕДЕЯТЕЛЬНОСТИ
7-8 КЛАСС

№	Тестовые задания	Кол-во набранных баллов
17	Категория доз в токсикологии, вызывающая летальный исход с вероятностью 90%, называется: <input checked="" type="radio"/> а) Смертельной б) Токсичной в) Опасной г) Катастрофичной	3
18	Процесс подготовки организма к деятельности в условиях повышенной температуры окружающей среды, это: <input checked="" type="radio"/> а) Закаливание б) Жароустойчивость в) Идеомоторная тренировка г) Терморегуляция	3
19	Если посетитель банкомата забыл взять выданные деньги, а другой человек забрал их себе, то Уголовный кодекс России трактует это как: а) Находка <input checked="" type="radio"/> б) Кража в) Мошенничество г) Провокация	3
20	Что составляет наибольшую долю твёрдых бытовых отходов? <input checked="" type="radio"/> а) Пищевые отходы б) Полимеры в) Текстиль г) Стекло	3
Выберите все правильные варианты ответов		
21	Что человек может использовать как средство подачи сигнала бедствия или привлечения внимания, оказавшись на необитаемом острове? а) Зеркальце б) Рогатка <input checked="" type="radio"/> в) Воздушный змей г) Конец Александра <input checked="" type="radio"/> д) Костёр е) Огонь святого Эльма <input checked="" type="radio"/> ж) Дымовая шашка з) Жумар	3



ВСЕРОССИЙСКАЯ ОЛИМПИАДА ШКОЛЬНИКОВ 2020-2021 гг.
МУНИЦИПАЛЬНЫЙ ЭТАП
ОСНОВЫ БЕЗОПАСНОСТИ ЖИЗНЕДЕЯТЕЛЬНОСТИ
7-8 КЛАСС

№	Тестовые задания	Кол-во набранных баллов
22	Какие из перечисленных средств защиты относятся к индивидуальным? <input checked="" type="checkbox"/> а) Респиратор <input type="checkbox"/> б) Убежище <input type="checkbox"/> в) Противорадиационное укрытие <input checked="" type="checkbox"/> г) Противогаз <input checked="" type="checkbox"/> д) Противопыльная маска <input type="checkbox"/> е) Бункер	3
23	Что может являться признаком вывиха? а) Подвижность костей в необычном месте б) Появление небольшой раны <input checked="" type="checkbox"/> в) Изменение формы сустава <input checked="" type="checkbox"/> г) Невозможность движения в суставе д) Хруст костей при движении	3
24	Выберите города, где происходили крупные землетрясения. <input checked="" type="checkbox"/> а) Калькутта 1737 год <input checked="" type="checkbox"/> б) Ашхабад 1948 год <input type="checkbox"/> в) Сочи 1995 год <input type="checkbox"/> г) Бхопал 1986 <input checked="" type="checkbox"/> д) Нефтегорск 1995 <input type="checkbox"/> е) Спитак 1988 год <input checked="" type="checkbox"/> ж) Токио 1912 год з) Мадрид 2004	0
25	Какие цвета постоянной горизонтальной разметки можно встретить на дороге в России? <input checked="" type="checkbox"/> а) Белый <input checked="" type="checkbox"/> б) Жёлтый <input type="checkbox"/> в) Красный <input type="checkbox"/> г) Синий <input type="checkbox"/> д) Чёрный <input type="checkbox"/> е) Зелёный	1

Оценочные баллы: максимальный – 75 баллов; фактический – 42 баллов
Подписи членов жюри: _____