

7-310-8

1	2	3	4	5	6	7	8	9
4	8	2	5	8	11	8	10	7

63 балла
Ри
Висер
62



ВСЕРОССИЙСКАЯ ОЛИМПИАДА ШКОЛЬНИКОВ 2019/20 гг.
МУНИЦИПАЛЬНЫЙ ЭТАП
ИСТОРИЯ
7 КЛАСС

Инструкция по выполнению задания
Время выполнения заданий – 120 минут
Максимальный балл – 100 баллов

Задание 1. Напишите правильный ответ [максимальный балл – 5 баллов]:

1.1. Напишите имя князя, о котором идет речь в данном отрывке [1 балл]

«И стал он собирать много воинов храбрых, и быстрым был, словно пардус, и много воевал. В походах же не возил за собою ни возов, ни котлов, не варил мяса, но, тонко нарезав конину, или зверину, или говядину и зажарив на углях, так ел; не имел он шатра, но спал, постилая потник с седлом в головах».

1
Ответ: Святослав Игоревич.

1.2. Прочитайте отрывок из произведения и напишите название этого произведения [1 балл]

«Дремлетъ въ поле Ольгово хороброе гнездо.

Далече залетело!

Не было оно обиде порождено

ни соколу,

ни кречету,

ни тебе, чръный воронъ,

поганый половчине!

Гзакъ бежит серымъ влькомъ,

Кончакъ ему следъ править къ Дону великому».

1
Ответ: Сказание о хане Кончаке.

1.3. Напишите термин, которому принадлежит данное определение [1 балл]

«Татарское слово, первоначально означало ханскую грамоту или ханское повеление, слово старшего к младшему, а затем всякое письменное распоряжение или обозначение, в XIII—XV веках верительная грамота на великое княжение».

1
Ответ: Ярлык.

1.4. О каком событии идет речь в данной грамоте? [1 балл]

««Нет войны между нами. Путь нашим послам и купцам везде свободен. Князь Михаил должен возвратить все похищенное им в областях великого княжения во время трех бывших перемирий и вывести оттуда своих

7-310-8



ВСЕРОССИЙСКАЯ ОЛИМПИАДА ШКОЛЬНИКОВ 2019/20 гг.
МУНИЦИПАЛЬНЫЙ ЭТАП
ИСТОРИЯ
7 КЛАСС

наместников; а буде они не выедут, то Димитрий может их взять под стражу и сам управиться с Михаилом в случае новых его насилий; Ольгерду же в таком случае не вступаться за шурина. Когда люди московские, посланные в Орду жаловаться на князя тверского, успеют в своем деле, то Димитрий поступит как угодно богу и царю, чего Ольгерд не должен ставить ему в вину. Михаилу нет дела до великого княжения, а Димитрию до Твери; они ведаются только чрез послов. Князь литовский обязан возвратить Димитрию сию договорную грамоту, буде вздумает по истечении срока возобновить неприятельские действия».

1 Ответ: Междоусобица на Руси за великое княжение.

1.5. К какому году по летоисчислению от Рождества Христова относятся описываемые события? [1 балл]

«В год 6745 на зиму пришли с восточной стороны на Рязанскую землю безбожные татары и начали воевать Рязанскую землю, и пленили ее до Пронска. Пленив Рязань всю, её пожгли, а князя их убили. Их же, взяв, одних распинали, других же стрелами расстреливали в них, а иным также руки связывали. Много же святых церквей огню предали и монастыри и села пожгли, добра не мало с обеих сторон взяли, потом пошли на Коломну».

1 Ответ: 1237 год.

Задание 2. Выберите два верных ответа в каждом задании [1 балл за каждый правильный ответ, максимальный балл – 8].

2.1. Какие племена были завоеваны Карлом Великим во второй половине VIII в.?

- А. скоты
- Б. саксы
- В. норманны
- Г. славяне
- Д. лангобарды

2.2. Военные походы каких славянских князей закончились заключением договоров с Византией?

- А. Рюрик
- Б. Олег
- В. Игорь
- Г. Ольга
- Д. Святополк

2.3. Какие из перечисленных терминов относятся к земледельческим орудиям труда древних славян?

- А. соха
- Б. палица

7-310-8



ВСЕРОССИЙСКАЯ ОЛИМПИАДА ШКОЛЬНИКОВ 2019/20 гг.
МУНИЦИПАЛЬНЫЙ ЭТАП
ИСТОРИЯ
7 КЛАСС

- В. рубило
- Г. мотыга
- Д. гарпун

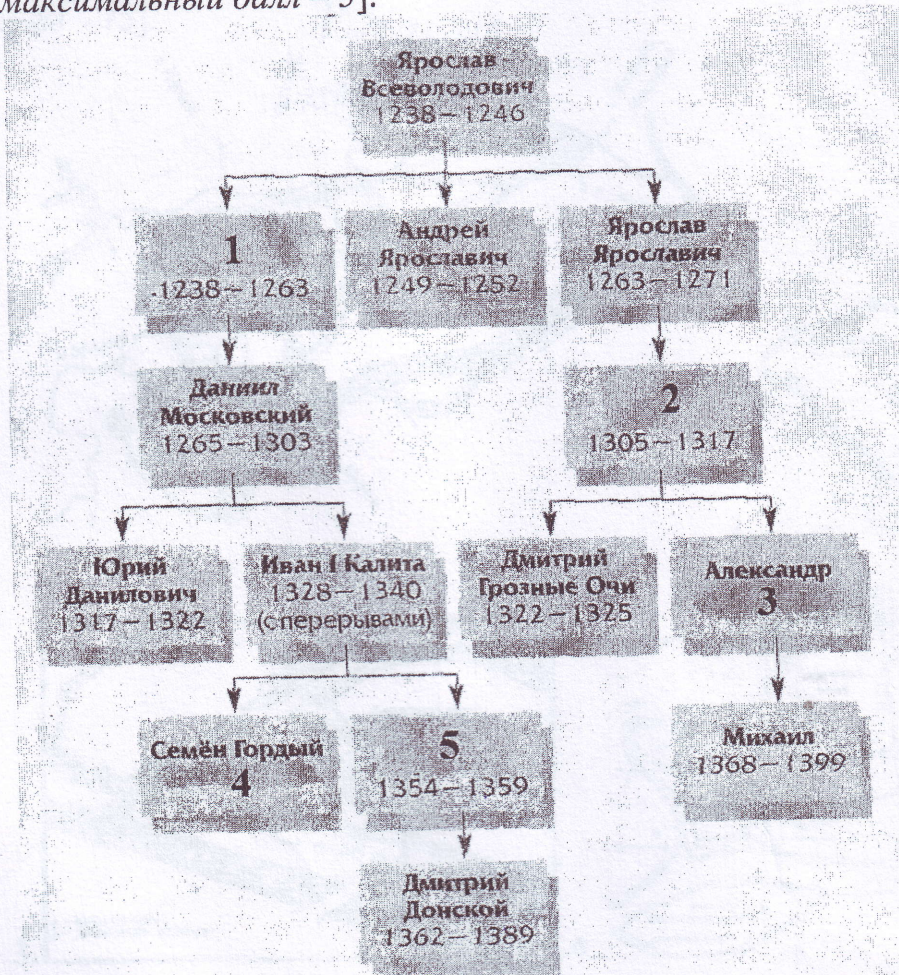
2.4. Какие реки лежали на пути «из варяг в греки»?

- А. Волга
- Б. Дон
- В. Волхов
- Г. Ловать
- Д. Дунай

Ответ:

2.1.	2.2.	2.3.	2.4.
Б, Д	Б, В	А, Г	Б, Г

Задание 3. В данной части генеалогического древа Рюриковичей пропущены имена и даты княжения. Впишите недостающие элементы в таблицу под соответствующей цифрой [1 балл за каждый правильный ответ, максимальный балл – 5].



4-310-8

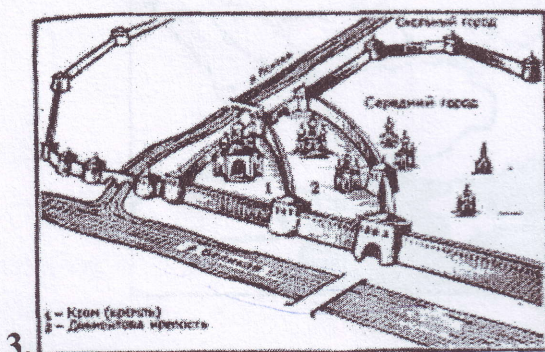
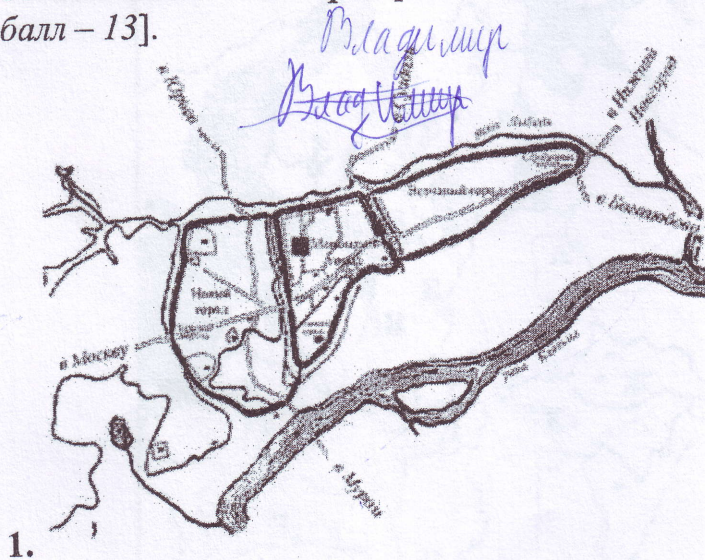


ВСЕРОССИЙСКАЯ ОЛИМПИАДА ШКОЛЬНИКОВ 2019/20 гг.
МУНИЦИПАЛЬНЫЙ ЭТАП
ИСТОРИЯ
7 КЛАСС

Ответ:

1	Александр Ярославич Кевский
2	Иван Иванович Всеволоду Ярославичу
3	1340-1345
4	1345-1354
5	Иван II Иванович

Задание 4. Внимательно рассмотрите схемы славянских городов и заполните таблицу: 1) в первый столбец запишите номера схем городов в порядке их возникновения (основания) [1 балл за весь столбец при условии правильной хронологической последовательности]; 2) во втором столбце напишите названия этих городов [1 балл за каждый правильный ответ]; 3) в третьем столбце буквенное обозначение месторасположения этих городов, обозначенных на карте [1 балл за каждый правильный ответ] [максимальный балл – 13].




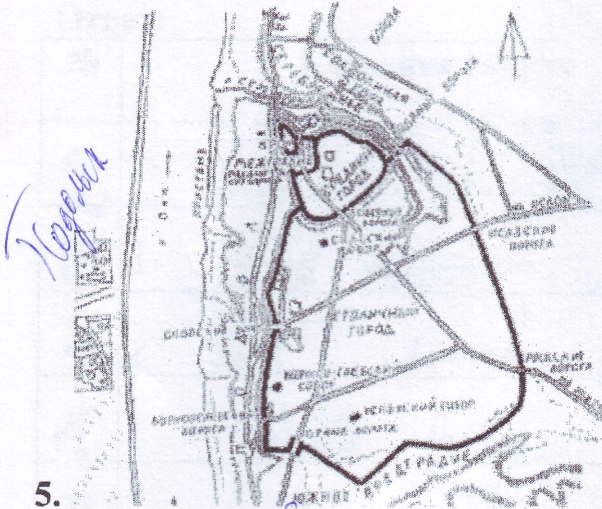
Москва Разань

~~Новгород~~ Суздаль Владимир 5

2-310-8



ВСЕРОССИЙСКАЯ ОЛИМПИАДА ШКОЛЬНИКОВ 2019/20 гг.
МУНИЦИПАЛЬНЫЙ ЭТАП
ИСТОРИЯ
7 КЛАСС



Карта расположения городов:



4-310-8



ВСЕРОССИЙСКАЯ ОЛИМПИАДА ШКОЛЬНИКОВ 2019/20 гг.
МУНИЦИПАЛЬНЫЙ ЭТАП
ИСТОРИЯ
7 КЛАСС

Ответ:

№	Название города	Буквенное обозначение на карте
2	Владимир Киев	А Г К
6	Киев Владимир Великий Новгород	А Г А
4	Киев Владимир Новгород-Суздальский	А Г Г
1	Владимир Владимир	А А
3	Владимир Рязань	А Х
5	Владимир Тверь	А Е

Задание 5. Соотнесите элементы столбцов таблицы. Запишите в таблицу выбранные цифры под соответствующими буквами [1 балл за каждый правильный ответ, максимальный балл – 15].

5.1. Установите соответствие между историческим термином и определением. Обратите внимание, в правом столбце таблицы содержится лишний элемент [5 баллов].

Термин	Определение
1. ересь	А. младшая княжеская дружина
2. рать	Б. верхняя одежда, наподобие кафтана
3. вервь	В. немилость царя, государев гнев
4. гридь	Г. войско, военный отряд
5. опала	Д. религиозное учение, противоречащее церковным догматам
	Е. община у восточных славян

Ответ:

1	2	3	4	5
А	Г	Е	Б	В

5.2. Установите соответствие между деятелями отечественной и всемирной истории и событием, участниками или свидетелями которого они были. Обратите внимание, в двух столбцах таблицы содержатся лишние элементы [1 балл за каждый правильно выбранный элемент. Всего 10 баллов].

4-310-8



ВСЕРОССИЙСКАЯ ОЛИМПИАДА ШКОЛЬНИКОВ 2019/20 гг.
МУНИЦИПАЛЬНЫЙ ЭТАП
ИСТОРИЯ
7 КЛАСС

Деятели отечественной истории	Деятели всемирной истории	События
1. Олег	А. темники Джэбэ и Субэдэй	I. осада Переяславля 1096 г.
2. Владимир Мономах	Б. литовский князь Ольгерд	II. борьба с Василием Косым и Дмитрием Шемяка
3. Даниил Галицкий	В. Карл Великий	III. русско-византийский договор 911 г.
4. Дмитрий Донской	Г. византийский император Лев VI	IV. сражение на реке Калка
5. Василий II	Д. половецкий хан Тугоркан	V. осада Московского Кремля
	Е. Софья Витовтовна	VI. борьба со славянским племенем лютичей

Ответ:

1	2	3	4	5
В	Б	А	А	Б
III	II	IV	V	VI

Задание 6. Прочтите отрывок из документа и ответьте на вопросы
[максимальный балл – 13].

«В год 6746, по гневу божиему за умножение грехов наших, было нашествие поганых татар на землю христианскую. Тогда одни затворились в городах своих, другие убежали в дальние земли, а иные спрятались в пещерах и расселинах земных... Те, кто затворился в городах, калялись в своих грехах и со слезами молились богу, и были они погаными безжалостно перебиты; из тех же, кто скрывался в горах, и в пещерах, и в расселинах, и в лесах, мало кто уцелел. И этих через некоторое время татары расселили по городам, переписали их всех и начали с них дань брать. Услышав об этом, те, кто разбежался по чужим землям, возвратились снова в земли свои, кто остался в живых, князья и иные люди. И начали татары насильно призывать их, говоря: «Не годится жить на земле хана и Батю, не поклонившись им». И многие приезжали на поклон к хану и Батю ... Многие же князья с боярами своими ... поклонялись солнцу, и кусту, и идолам ради славы мира этого, и просил каждый себе владений. И им невозбранно давались те владения, какие они хотели получить — пусть прельстятся славой мира сего.

И вот в то время, когда блаженный князь Михаил находился в Чернигове,



4-310-8
ВСЕРОССИЙСКАЯ ОЛИМПИАДА ШКОЛЬНИКОВ 2019/20 гг.
МУНИЦИПАЛЬНЫЙ ЭТАП
ИСТОРИЯ
7 КЛАСС

бог, видя, как многие обольщаются славою мира сего, послал на него благодать и дар святого духа, и вложил ему в сердце мысль ехать к царю и обличить лживость его, совращающую христиан...

Проехав многие земли, прибыл Михаил к Батью ... И вот дошли они до того места, где были сложены горящие костры по обеим сторонам пути. И все поганые проходили через огонь и кланялись солнцу и идолам. Волхвы также хотели провести Михаила и Феодора через огонь... Михаил же сказал Феодору: «Нельзя нам поклоняться тому, чему они поклоняются»... Царь сильно разъярился ...: «Как посмел повелением моим пренебречь - почему богам моим не поклонился? Теперь одно из двух выбирай: или богам моим поклонись и тогда останешься жив и получишь княжение, или же, если не поклонись богам моим, то злой смертью умрешь»... Тогда ответил Михаил: «Тебе, царь, кланяюсь, потому что бог поручил тебе царствовать на этом свете. А тому, чему велишь поклониться, — не поклонюсь»...

На месте же том было много христиан и поганых, и все слыхали, что ответил Михаил царю. После этого Михаил и Феодор стали отпевать себя и, свершив отпевание, приняли причастие, которое дал им с собою духовный отец их. И вот говорят окружающие: «Михаил, вот уже убийцы едут от царя, чтобы убить вас, поклонитесь и живы останетесь!» Михаил же и Феодор, как одними устами, ответили: «Не поклонимся и вас, думающих только о славе света этого, не послушаем»... И тут приехали убийцы, соскочили с коней и ... начали мучить ..., после чего отрезали честную ... голову... Случилось же убиение их в год 6753, месяца сентября в двадцатый день...».

Вопросы:

1. С повествования какого события начинается текст? [1 балл]

1 Ответ: Начество князя Батыя на Русь

2. Укажите год данного события по современному летоисчислению [1 балл]

1 Ответ: 1238

3. Какие последствия имело данное событие? [1 балл]

1 Ответ: Загорелись многие селы русских и татар. Люди убежали в лес или в долины, оставшиеся были данью. Началась татаро-монгольская

4. Кого автор называет «погаными»? [1 балл]

1 Ответ: Татаро-монголы

5. Напишите название вероисповедания тех, кто пришел на русские земли [1 балл]

1 Ответ: Иудаизм и татаро-монголы были язычники. Язычество.



4-310-8
ВСЕРОССИЙСКАЯ ОЛИМПИАДА ШКОЛЬНИКОВ 2019/20 гг.
МУНИЦИПАЛЬНЫЙ ЭТАП
ИСТОРИЯ
7 КЛАСС

6. О каком новом для русских князей обычае идет речь в конце первого абзаца?

[1 балл]

1 | Ответ: Князь ездил в Орду поклониться хану и адымским богам, византийский дипломат описывал это, чтобы побудить князь на изменение в каком-либо княжестве.

7. Из какого княжества был упоминаемый в отрывке князь? [1 балл]

Ответ: _____

8. Какой сложившийся обычай нарушил этот князь, приехав в гости? [1 балл]

1 | Ответ: Не поклонился адымским богам-идолам, нех трогал через огонь.

9. Напишите название того места, куда приехал князь. [1 балл]

1 | Ответ: Смоленская земля - г. Сарай.

10. Напишите имя царя, о котором идет речь в этом отрывке. [1 балл]

1 | Ответ: Хан Батый.

11. Чем закончилась поездка этого князя? [1 балл]

1 | Ответ: Его убили в Орде.

12. Укажите точную дату завершения поездки князя [1 балл]

1 | Ответ: 20 сентября 1242 г.

13. Напишите название данного произведения [1 балл]


Ответ: Сказание о Батыевом нашествии

Задание 7. Внимательно рассмотрите изображения и выполните задания: 1) в первый столбец таблицы запишите название архитектурного сооружения, произведения искусства или исторической личности [1 балл]; 2) во втором столбце напишите характеристику соответствующего изображения (с какими событиями связано его появление, кто является его автором и иную информацию, связанную с данным изображением) [1 балл]; 3) в последней строчке таблицы напишите критерий, по которому сгруппированы эти изображения, и объясните свой выбор [1 балл] [1 балл за каждый из перечисленных элементов ответа к каждому памятнику, максимальный балл за все задание – 18].

4-310-8



ВСЕРОССИЙСКАЯ ОЛИМПИАДА ШКОЛЬНИКОВ 2019/20 гг.
МУНИЦИПАЛЬНЫЙ ЭТАП
ИСТОРИЯ
7 КЛАСС




1.




2.



3.



4.


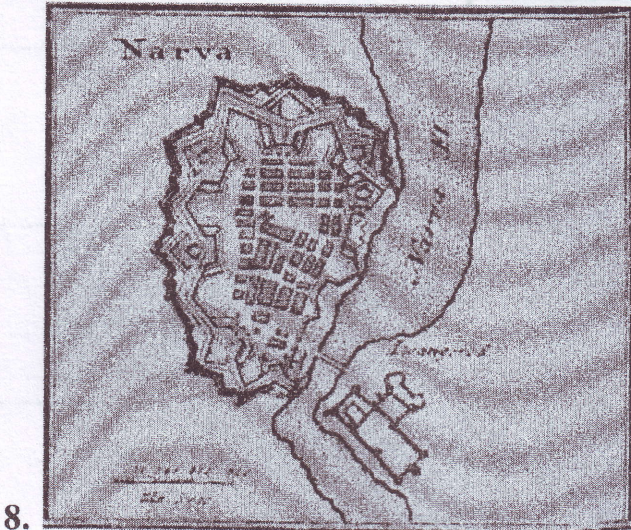


5.

4-310-8



ВСЕРОССИЙСКАЯ ОЛИМПИАДА ШКОЛЬНИКОВ 2019/20 гг.
МУНИЦИПАЛЬНЫЙ ЭТАП
ИСТОРИЯ
7 КЛАСС



9-310-8



ВСЕРОССИЙСКАЯ ОЛИМПИАДА ШКОЛЬНИКОВ 2019/20 гг.
МУНИЦИПАЛЬНЫЙ ЭТАП
ИСТОРИЯ
7 КЛАСС

Ответ:

№	Название	Характеристика
1	Софийский собор в Великом Новгороде	Собор Храброматий христианский собор им св. Софии, построенный в XII веке
2	Десятинная церковь в Киеве	Построена в XII веке в Киеве князем Яроslавом Мудрым.
3	16 Краснокаменный Кремль	Московский кремль, перестроенный в 1547 г. Первый был деревянным - второй - белокаменный и только третий - краснокаменный.
4	Золотые ворота во Владимире	Ворота во Владимире, построенные во время правления Юрия Долгорукого
5	1 Герб Византии, а затем Руси	Двуглавый орёл - символ власти Византии. Появилась в 1027 году в качестве герба Русского государства, как её преемника.
6	Монах Персей Вадостский	Анонимный дирижер Демского на Куриковскую битву.
7	1 Путешествие А. Никитина в 1486 г. в Индию	Первое путешествие в Индию через Азию в 1486 г.
8	1 Крепость на реке Карве	Около неё проходила Тамба на реке Карве между Русью и кельтскими племенами. Канал орденов.
Критерий	Символы культуры, духовной, архитектурной и военной истории Русского государства	XII - XVI веков.

7-310-8



ВСЕРОССИЙСКАЯ ОЛИМПИАДА ШКОЛЬНИКОВ 2019/20 гг.
МУНИЦИПАЛЬНЫЙ ЭТАП
ИСТОРИЯ
7 КЛАСС

Задание 8. Прочитайте отрывок из произведения современных историков и заполните пробелы в тексте. Ответ оформите в виде перечня элементов под соответствующими номерами [1 балл за каждый правильно заполненный пропуск, максимальный балл – 10].

После поражения золотоордынских войск на реке Воже (1 – название реки) в 1348 (2 – год) году, ордынский темник (3 – термин, обозначающий военачальника, командовавшего 10000 воинами), выбранный ханом, по имени Мамай (4 – имя) решил сломить русских князей и усилить их зависимость от Орды. Летом 1380 (5 – год) года он собрал войско, насчитывавшее около 100–150 тысяч воинов. Помимо татар и монголов, в нем имелись отряды осетин, армян, живших в Крыму генуэзцев, черкесов, и ряда других народов. Союзником Мамая (4 – имя) согласился быть великий князь литовский Майло (6 – имя), войско которого должно было поддержать ордынцев, двигаясь по Оке. Другим союзником Мамая (4 – имя) – по сообщению ряда летописей – был Язанинский (7 – название княжества) князь Олег Иванович. По данным других летописей, Олег Иванович лишь на словах выразил готовность союзничать, обещав Мамая (4 – имя) воевать на стороне татар, сам же немедленно предупредил русское воинство о грозящем соединении Мамая (4 – имя) и Майло (6 – имя). В конце июля 1380 (2 – год) года, узнав о намерениях ордынцев и литовцев воевать с Русью, московский князь Дмитрий Иванович (8 – имя и отчество) обратился с призывом о сборе русских военных сил в столице и Коломне (9 – название города – место сбора), и вскоре собрал рать, немногим меньшую войска Орды. В основном в ней были москвичи и воины из земель, признавших власть московского князя, хотя ряд лояльных Москве земель – Новгорода, Смоленска, Нижнего Новгорода – не выразили готовности поддержать Дмитрия Ивановича (8 – имя и отчество). Не дал своих «воев» и главный соперник князя московского – князь Шверский (10 – название княжества).

Ответ:

1. Вожа

2. 1348

3. темник

4. Мамай

5. 1380

6. Майло

4-310-8



ВСЕРОССИЙСКАЯ ОЛИМПИАДА ШКОЛЬНИКОВ 2019/20 гг.
МУНИЦИПАЛЬНЫЙ ЭТАП
ИСТОРИЯ
7 КЛАСС

- 7. Закан
- 8. Дмитрий Иванович Донской
- 9. Кочевья
- 10. Тверь

Задание 9. Внимательно рассмотрите таблицы со статистическими данными и ответьте на поставленные вопросы [1 балл за каждый правильный ответ, максимальный балл – 13].

Таблица. Территория и население России в XI – XVII вв.

Показатели	1000 г.	1462 г.	1550 г.	1646 г.
Территория, млн. км ²	1,1	0,4	2,8	14,1
Население, млн.	3,0	2,5	4,5	6,7
Человек на 1 км ²	2,5	5,8	1,6	0,5
Европейская часть				
Территория, млн. км ²	1,1	0,4	2,8	4,1
Население, млн.	3,0	2,5	4,5	6,5
Человек на 1 км ²	2,5	5,8	1,6	1,6

Вопросы:

1. Как менялась территория российского государства с XI в. до середины XVII в. Свой ответ аргументируйте данными из таблицы и примерами из истории данного периода. Обратите внимание на выделенную в таблице «Европейскую часть» [3 балла]

Ответ: До XIV века Россия находилась ^{князей} только в пределах Европы. К 1000 г. благодаря завоеваниям князя Игоря, Ольги, Святослава и Владимира. К 1462 г. территория нашей страны увеличилась, т.к. после ее разорения Золотой Ордой соседние страны часто нападали на Русь и завоевывали территории. К 1646 г. территория достигла 14,1 млн км² благодаря завоеваниям русских людей. Из них - 10 млн км² принадлежало до 1550 г. бывшей территории России находившаяся в Европе.

2. Как менялась численность населения российского государства с XI в. до середины XVII в. Какие факторы влияли на изменение численности населения? Свой ответ аргументируйте данными из таблицы и примерами из истории

4-310-8



ВСЕРОССИЙСКАЯ ОЛИМПИАДА ШКОЛЬНИКОВ 2019/20 гг.
МУНИЦИПАЛЬНЫЙ ЭТАП
ИСТОРИЯ
7 КЛАСС

данного периода [3 балла]

Ответ: К 1000 г. плотность населения Руси достигла ~~этого~~ 4 чел/км², но к 1462 г. уменьшилась до 2,5 чел/км². Во время набегов Золотой Орды погибало множество людей. Но некоторые города почти не оставались захваченными, а оставшиеся уведены в рабство. Но после окончания татаро-монгольского нашествия Русь стала расти, несмотря на множество войн, произошедших в то время и вышло до 6,4 чел/км² из которых 6,5 чел/км² приходится на европейскую часть, т.к. азиатская была почти не заселена.

3. Как менялась плотность населения российского государства с XI в. до середины XVII в. Назовите причины таких изменений. Свой ответ аргументируйте данными из таблицы и примерами из истории данного периода [3 балла]

Ответ: К 1000 г. плотность населения Руси достигла 4 чел/км². В результате татаро-монгольского нашествия плотность населения уменьшилась, хотя и население уменьшилось. Это произошло потому, что сильно уменьшилась территория гос-ва. При завоевании новых земель плотность населения увеличилась, но население росло. К 1450 г. плотность населения достигла до 1,6 чел/км², а к 1646 до 0,5 чел/км². Плотность населения в Русь была мала, т.к. была мало заселена, но эти земли азиатская часть оставалась большей частью пустыней.

4. Сделайте вывод по данной таблице [2 балла за каждый элемент. Всего 4 балла]:

4.1. Какие изменения в развитии русских земель с XI в. до середины XVII в. можно отметить на основе анализа данной таблицы?

Ответ: К 1462 г. уменьшилось население и территория России, в результате татаро-монгольского нашествия, но к 1646 г. население и территория России даже превысили в несколько раз показатели 1000 г.

4.2. Какие политические события оказали влияние на данные изменения?

Ответ: На уменьшение насел. повлияли и внутр. повстанья татаро-монгольского нашествия со стороны соседей гос-ва. На увеличение населения и территории повлияла успешная внутр. и внешн. полит. русскими царями, распад Золотой Орды.