

Приложение № 8  
к организационно-технологической модели  
проведения муниципального этапа  
всероссийской олимпиады школьников  
на территории города Омска

**ПРОТОКОЛ**  
проверки олимпиадной работы участника

Предмет ОБЖ  
Класс 8  
Шифр 0-8-22  
№ тура (если есть) \_\_\_\_\_

Заполняется проверяющими членами жюри

№ заданий		1	2	3	4	5	6	7	8	9	10	ИТОГО
Максимальное количество баллов		12	12	12	12	12	40					100
Баллы членов жюри	Эксперт 1	6	0	12	0	12	30					60
	Эксперт 2	6	0	12	0	12	30					60
Итоговый балл		0	0	12	0	12	30					60

Член Жюри Жур Фазанов А.В.

Член Жюри Подпись / ФИО  
Е.С. Мельникова / Мельникова Е.С.

Подпись / ФИО





\*- количество столбцов с № задания соответствует количеству заданий по данному предмету муниципального этапа олимпиады



0-8-22

Модуль 1 (Теоретические задания)

ЗАДАНИЕ 1. Установите соответствие между источниками воспламенения и их максимальной температурой. Результат внесите в таблицу, вписав туда соответствующие буквы.

Источник воспламенения	Температура °C
1. Лампа накаливания 	А) 550
2. Электрический чайник 	Б) 500
3. Спираль электрической плиты 	В) 700
4. Папироса 	Г) 420

Ответ:


1. Лампа накаливания	2. Электрический чайник	3. Спираль электрической плиты	4. Папироса
Б -	А -	В +	Г +

Оценочные баллы: максимальный – 12 баллов; фактический – 6 баллов

Подписи членов жюри: \_\_\_\_\_



ЗАДАНИЕ 2. Три рисунка из представленных имеют отношение к методу профилактики заболеваний. Какой рисунок лишний? О каком методе профилактики заболеваний идет речь?



Ответ:

Лишний рисунок: 1

Метод профилактики заболеваний: ИСПЫТАНИЯ НАВ, ЖИВОТНЫМИ

Оценочные баллы: максимальный – 12 баллов; фактический – 0 баллов

Подписи членов жюри: *PS*

ЗАДАНИЕ 3. Выберите из списка правильные действия оказания помощи пострадавшему с отморожением пальцев ног, запишите номера строк.

1. Принять ванну с горячей водой
2. Растереть стопу шерстяной тканью
3. Погрузить стопу в горячую воду
4. Снять с ноги мокрый ботинок
5. Обернуть стопу теплым одеялом
6. Растереть стопу спиртом
7. Приложить к стопе грелку с горячей водой
8. Предложить выпить горячий чай
9. Предложить таблетку анальгина
10. Вызвать скорую медицинскую помощь

Ответ: 4, 5, 8, 10

Оценочные баллы: максимальный – 12 баллов; фактический – 12 баллов

Подписи членов жюри: *PS*



**ЗАДАНИЕ 4.** Вам необходимо перейти проезжую часть дороги на перекрёстке, движение на котором управляется регулировщиком. Что означают следующие сигналы регулировщика для пешехода:

- а) руки вытянуты в стороны или опущены;
- б) правая рука вытянута вперёд;
- в) рука поднята вверх.

Ответ:

а) руки вытянуты или опущены - это значит, то же что и красный свет светофора.

б) правая рука вытянута - значит, что проход безопасен, можно спокойно переходить.

в) рука поднята вверх - этот знак регулировщика означает то же что и желтый свет светофора.

Оценочные баллы: максимальный - 12 баллов; фактический - 0 баллов

Подписи членов жюри: \_\_\_\_\_

*РМ*



ЗАДАНИЕ 5. Внимательно рассмотрите рисунки. Запишите, какие правила поведения на воде они иллюстрируют.



Ответ:

- + 1. Находясь на солнце нужно носить головной убор.
- + 2. Нельзя оставлять детей без присмотра взрослых.
- + 3. Нельзя нырять в воду в необследованных местах.
- + 4. Находясь в воде нельзя баловаться.
- + 5. Не плавать в местах где находятся какие-либо животные.
- + 6. Находясь на пляже, где множество людей не убегать от родителей.

Оценочные баллы: максимальный – 12 баллов; фактический – 12 баллов

Подписи членов жюри:

*fg*



Модуль 2 (Тестовые задания)

В вопросах выберите только один правильный ответ. В бланке заданий обведите кружком букву выбранного варианта ответа, если в дальнейшем потребуется корректировка выбранного варианта ответа, то неправильный вариант ответа зачеркивается, а новый выбранный ответ обводится кружком.

№	Тестовые задания	Количество набранных баллов
<b>Определите один правильный ответ</b>		
1	<p>Переносное или передвижное устройство для тушения очагов пожара, за счет выпуска запасенного огнетушащего вещества, называется:</p> <p>а) Пламегаситель  <input checked="" type="radio"/> б) Огнетушитель            в) Спринклер            г) Дренчер</p>	
2	<p>Повреждение тканей организма человека, возникающее при воздействии на них открытого пламени, – это:</p> <p>а) Солнечный удар  <input checked="" type="radio"/> б) Тепловой удар            в) Перегревание            г) Ожог</p>	
3	<p>Выберите название явления, основная опасность которого заключается в том, что человека уносит от берега в открытое море:</p> <p>а) Сейши            б) Цунами            в) «Зыбь»  <input checked="" type="radio"/> г) «Тягун»</p>	
4	<p>Выберите ядовитое животное, не встречающееся в дикой природе Российской Федерации:</p> <p>а) Лягушка Жерлянка            б) Гюрза  <input checked="" type="radio"/> в) Аспид            г) Скорпион</p>	
5	<p>Воображаемая линия, проведенная через центр этого созвездия, в северном полушарии лежит строго в направлении «Восток-</p>	



№	Тестовые задания	Количество набранных баллов
+	<p>Запад»:</p> <p>а) Большая медведица</p> <p>б) Малая медведица</p> <p><input checked="" type="radio"/> в) Созвездие Ориона</p> <p>г) Созвездие Стрельца</p>	
-	<p>6 Вещество, добавляемое в природный газ, для предупреждения об его утечке:</p> <p>а) Одоранг</p> <p><input checked="" type="radio"/> б) Клапидонт</p> <p>в) Аббасид</p> <p>г) Гулам</p>	
+	<p>7 Дополнительные светофорные секции, на которых изображен пешеход со стрелкой бело-лунного цвета, предназначены:</p> <p><input checked="" type="radio"/> а) для предупреждения водителей о том, что нужно уступить дорогу пешеходам при выполнении поворота</p> <p>б) для обозначения зоны пешеходного перехода в ночное время</p> <p>в) для регулирования очередности движения пешеходов и транспортных средств</p> <p>г) для предупреждения пешеходов об опасном участке перекрестка, на котором расположен пешеходный переход</p>	
+	<p>8 При проезде в общественном транспорте наиболее опасным местом при столкновении является:</p> <p><input checked="" type="radio"/> а) Проход между рядами</p> <p>б) Последние кресла по правой стороне салона</p> <p>в) Передние кресла по левой стороне салона</p> <p>г) Кресла в середине салона</p>	
+	<p>9 При каком природном явлении возникает опасность поражения кислотой</p> <p>а) Сход снежной лавины</p> <p><input checked="" type="radio"/> б) Извержение вулкана</p> <p>в) Цунами</p> <p>г) Лесной пожар</p>	
-	<p>10 Человек подвергается воздействию электрического тока, с чего необходимо начинать спасательную операцию:</p> <p>а) Вынести человека из зоны воздействия электричества</p> <p>б) Подложить под пострадавшего резиновый коврик или сухой фанерный щит</p>	



№	Тестовые задания	Количество набранных баллов
+	⒖ Отключить источник тока, соблюдая меры личной безопасности г) Провести непрямой массаж сердца	
11	Гепатит А передается: а) Воздушно-капельным путём ⒖ При укусе комаров в) При укусе собак или кошек г) При употреблении загрязненной пищи и воды	
+	При работе с парами азотной кислоты применяется: а) Желтый фильтр противогаса (типа Е) б) Зеленый фильтр противогаса (типа К) в) Красный фильтр противогаса (типа Нg) ⒖ Коричневый фильтр противогаса (типа А)	
13	Выберите безопасный к употреблению человеком гриб: а) Рваный гриб б) Трутовик ⒖ Желчный гриб г) Галерина болотная	
14	Невозможно органами чувств обнаружить: ⒖ Повышенный уровень радиации б) Химическое заражение воздуха в) Землетрясение г) Испорченные продукты питания	
15	Недостаток витамина В1 вызывает у человека заболевание: а) Цинга б) Авитаминоз в) Рахит ⒖ Бери-бери	
16	Конец Александра является: а) Средством оказания помощи подавившимся инородным телом б) Средством оказания помощи при острой сердечной недостаточности ⒖ Средством оказания помощи утопающим г) Сигнальным средством	
17	Этот уровень погодной опасности наиболее благоприятен для туристического похода: а) Красный б) Желтый	



№	Тестовые задания	Количество набранных баллов
+	<input checked="" type="radio"/> В) Зеленый <input type="radio"/> Г) Оранжевый	
18 - -	18. Оптимальное соотношение животных и растительных белков в рационе человека составляет: а) 30:70 б) 40:60 в) 60:40 <input checked="" type="radio"/> Г) 70:30	
19 -	19. Свисток регулировщику дорожного движения необходим для: а) Остановки транспортных средств и пешеходов б) Привлечения внимания к себе в) Обозначения смены команд регулировщика <input checked="" type="radio"/> Г) Управления движением без жезла	
20 +	20. Двери на путях эвакуации должны открываться: а) По направлению входа в здание б) Не регламентируется <input checked="" type="radio"/> в) Автоматически, в случае пожара <input checked="" type="radio"/> Г) По направлению выхода из здания	

Оценочные баллы: максимальный – 40 баллов; фактический – 30 баллов

Подписи членов жюри:

*IS* *KL*